

## पाठ - 6

### मैं तेरा गुणनखंड, गुणज तू मेरा

---

#### चूहा और बिल्ली

Q1. क) वे खाने जिन पर चूहा कूदा -

उत्तर : क) वे खाने जिन पर चूहा कूदा - **16, 18, 20, 22, 24, 26 और 28**

Q2. ख) वे खाने जिन पर बिल्ली | कूदी -

उत्तर : ख) वे खाने जिन पर बिल्ली कूदी -

6, 9, 12, 15, 18, 21, 24, और 27

Q3. ग) वे खाने जिन पर बिल्ली और चूहा । दोनों कूदे -

उत्तर : ग) वे खाने जिन पर बिल्ली और चूहा दोनों कूदे - **18 और 24**

Q4. घ) क्या चूहा बच सकता है?

उत्तर : घ) हां, चूहा बच सकता है।

#### पता करो

Q1. अगर बिल्ली 5 से शुरू करके एक बार में पाँच खाने कूदती है और चूहा 8 से शुरू करके एक बार में चार खाने कूदता है, तो क्या चूहा बच पाएगा?

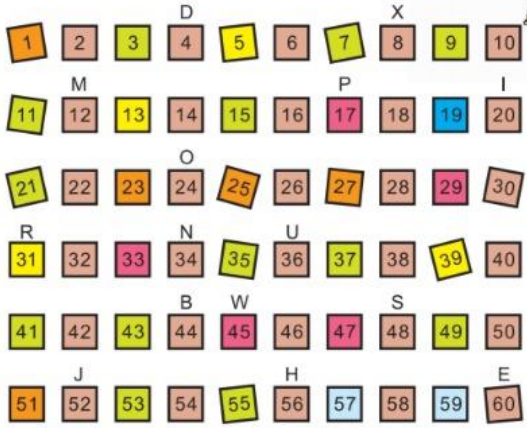
उत्तर : यदि बिल्ली 5 वें चरण से शुरू करती है और एक बार में पाँच खाने कूदती है, तो बिल्ली 5 वें चरण से 10, 15, 20 और 25 वें चरण में कूदती है।

फिर, चूहा 8 वें चरण से शुरू होता है और एक बार में चार खाने कूदता है, चूहा 8 वें चरण से 12, 16, 20 और 24 वें चरण तक कूदता है।

नहीं, चूहा दूर नहीं जा सकता। 20 वें चरण पर बिल्ली आसानी से चूहे को पकड़ लेगी।

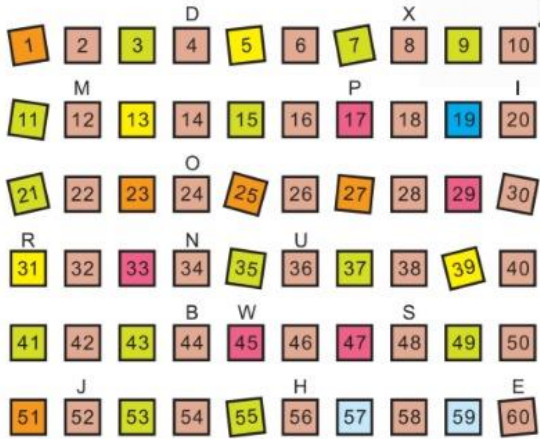
#### मोंटो का इंतज़ार

Q1.



हरेक संख्या जो दो से भाग हो सकती है, उस पर लाल बिंदु से निशान लगाओ।

उत्तर :



Q2. उन संख्याओं पर जो कि 3 से भाग हो सकती हैं पीले बिंदु से निशान लगाओ और 4 से भाग होने वाली संख्याओं पर नीले बिंदु से निशान लगाओ।

उत्तर : स्वयं करे

Q3. ऐसे कौन से खाने हैं जिन पर तीनों रंगों के बिंदु हैं?

उत्तर : स्वयं करे

Q4. इन खानों के ऊपर कौन से अक्षर हैं?

उत्तर : स्वयं करे

Q5. इन अक्षरों को क्रम से नीचे लिखो।

उत्तर : स्वयं करे

म्याऊँ खेल

Q1. 5 के कोई भी 10 गुणज लिखो।

उत्तर : स्वयं करे

### साझा गुणज

खेल को 2 और 7 संख्याओं के साथ दोहराओ।

Q1. 2 और 7 के साझा गुणज लिखो।

उत्तर : 15

Q2. 5 और 6 के कौन से साझा गुणज तुमने हरे भाग में | लिखे हैं?

उत्तर : 30 और 90.

Q3. 4 और 6 के कौन से साझा गुणज तुमने नारंगी भाग | में लिखे हैं?

उत्तर : 12 और 24.

Q3. कौन से रंग वाले भाग में तुमने 4, 6 और 5 के | साझा गुणज लिखे हैं?

उत्तर : वे ग्रे भाग में लिखे गए हैं।

Q4. 4, 6 और 5 का सबसे छोटा साझा गुणज कौन सा \_\_\_\_\_

उत्तर : 60

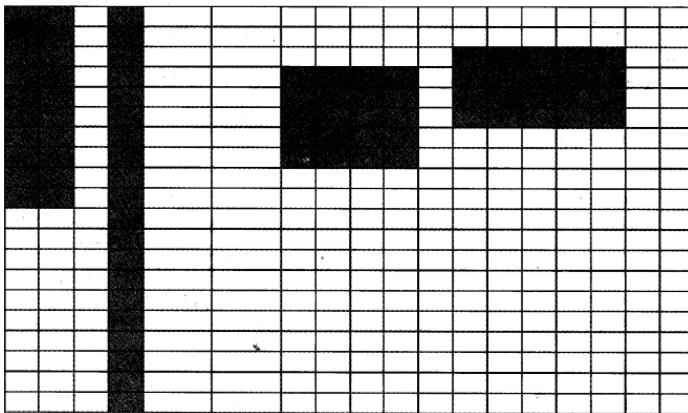
### ग्रिड को रँगना

Q1. इसकी लंबाई कितनी है?

उत्तर : 10 बक्से।

Q2. 20 खानों से अलग तरह से बनी एक आयत को रँगो।

उत्तर : इसे निम्न ग्रिड द्वारा दिखाया जा सकता है।



Q1. तुमने जो आयत रँगी, उसकी लंबाई और चौड़ाई कितनी है?

उत्तर : निम्नलिखित लंबाई और चौड़ाई के आयत बनाए जा सकते हैं:  $5 \times 4$ ,  $20 \times 1$

Q2. तुम 20 खानों की आयत को कितने तरीकों से रँग सकते हो? उन सबको ग्रिड में राँगो और राँगो हुए हर आयत की लंबाई और चौड़ाई को लिखो।

उत्तर : यह तीन तरीकों से किया जा सकता है।  $10 \times 2$ ,  $20 \times 2$  And  $5 \times 4$

चूड़ियाँ

Q1. अगर वह एक चूड़ी का समूह बनाती है तो उसके पास कुल कितने समूह होंगे ?

उत्तर : 1 चूड़ी के 18 समूह।

चार्ट को भरो

यहां दिए गए गुणन चार्ट को पूरा करें:

X	1	2	3	4	5	6	7	8	9	10	11	12
1												12
2						12						
3				12			21					
4			12							40		
5					20							
6		12										
7												
8									72			
9												
10												
11						66						
12	12											

उत्तर :

	<b>1</b>	<b>2</b>	<b>3</b>	<b>4</b>	<b>5</b>	<b>6</b>	<b>7</b>	<b>8</b>	<b>9</b>	<b>10</b>	<b>11</b>	<b>12</b>
<b>1</b>	1	2	3	4	5	6	7	8	9	10	11	<b>12</b>
<b>2</b>	2	4	6	8	10	12	14	16	18	20	22	24
<b>3</b>	3	6	9	<b>12</b>	15	18	21	24	27	30	33	36
<b>4</b>	4	8	<b>12</b>	16	20	24	28	32	36	40	44	48
<b>5</b>	5	10	15	20	25	30	35	40	45	50	55	60
<b>6</b>	6	<b>12</b>	18	24	30	36	42	48	54	60	66	72
<b>7</b>	7	14	21	28	35	42	49	56	63	70	77	84
<b>8</b>	8	16	24	32	40	48	56	64	72	80	88	96
<b>9</b>	9	18	27	36	45	54	63	72	81	90	99	108
<b>10</b>	10	20	30	40	50	60	70	80	90	100	110	120
<b>11</b>	11	22	33	44	55	66	77	88	99	110	121	132
<b>12</b>	<b>12</b>	24	36	48	60	72	84	96	108	120	132	144

**Q1. 10 के गुणनखंड कौन से हैं? क्या तुम इसे इस चार्ट से कर सकते हो?**



**उत्तर :** 10 के गुणनखंड हैं: 1, 2, 5, 10

**Q2. 36 के गुणनखंड कौन से हैं?**

**उत्तर :** 36 के गुणनखंड हैं: 1, 2, 3, 4, 6, 9, 12, 18 और 36

**Q3. इस गुणा के चार्ट से 36 के सभी गुणनखंड हूँदो।**

**उत्तर :** तालिका से हम प्राप्त कर सकते हैं:

$$36 = 3 \times 12$$

$$36 = 4 \times 9$$

$$36 = 6 \times 6$$

$$36 = 9 \times 4$$

$$36 = 18 \times 2$$

निम्नलिखित कारक तालिका से नहीं हैं:  $1 \times 36$

इसलिए, 36 के गुणनखंड हैं:

1, 2, 3, 4, 6, 9, 12, 18 और 36

**Q4. इससे बड़ी संख्या के लिए आप क्या कर सकते हैं?**

**उत्तर :** संख्या को भाग विधि द्वारा घटाया जाना चाहिए।

फिर हम और भिन्नो को प्राप्त करने के लिए तालिका का उपयोग कर सकते हैं।

उदाहरण के लिए: आइए अब तालिका से 180 का गुणनखंड करें:

$$180 = 2 \times 90 \quad 90 = 3 \times 30 \quad 30 = 3 \times 10 \quad 10 = 2 \times 5$$

इसलिए, 180 के गुणनखंड हैं: 1, 2, 3, 4, 5, 6, 9, 10, 12, 15, 18, 20, 30, 36, 45, 60, 90, 180

2	180
2	90
3	45
3	15
5	5
	1

**Q3. इस गुणा के चार्ट से 36 के सभी गुणनखंड ढूँढो।**

**उत्तर :** तालिका से हम प्राप्त कर सकते हैं:

$$36 = 3 \times 12$$

$$36 = 4 \times 9$$

$$36 = 6 \times 6$$

$$36 = 9 \times 4$$

$$36 = 18 \times 2$$

निम्नलिखित कारक तालिका से नहीं हैं:  $1 \times 36$

इसलिए, 36 के गुणनखंड हैं:

1, 2, 3, 4, 6, 9, 12, 18 और 36

**Q4. ऐसी सबसे बड़ी संख्या कौन सी है जिसके गुणनखंड तुम इस चार्ट से मालूम कर सकते हो?**

**उत्तर :** 144.

**Q5. उससे बड़ी संख्याओं के लिए तुम क्या कर सकते हो?**

**उत्तर :** संख्या को भाग विधि द्वारा घटाया जाना चाहिए।

फिर हम और भिन्नो को प्राप्त करने के लिए तालिका का उपयोग कर सकते हैं।

उदाहरण के लिए: आइए अब तालिका से 180 का गुणनखंड करें:

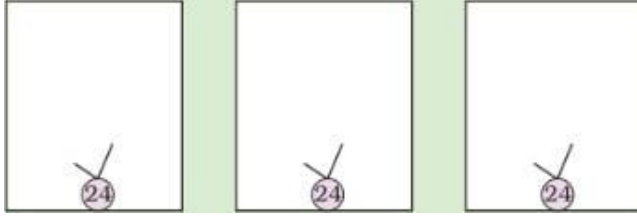
$$180 = 2 \times 90 \quad 90 = 3 \times 30 \quad 30 = 3 \times 10 \quad 10 = 2 \times 5$$

इसलिए, 180 के गुणनखंड हैं: 1, 2, 3, 4, 5, 6, 9, 10, 12, 15, 18, 20, 30, 36, 45, 60, 90, 180

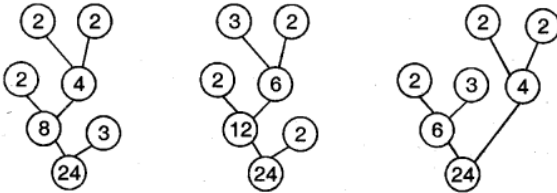
2	180
2	90
3	45
3	15
5	5
	1

## गुणनखंड पेड़

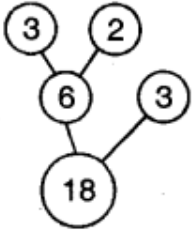
Q1. तुम 24 का गुणनखंड पेड़ कितने तरीकों से बना सकते हो? उनमें से तीन को नीचे बनाओ।



उत्तर :



Q2. दूसरी संख्याओं के लिए भी गुणनखंड पेड़ बनाने की कोशिश करो।



## पार्क का रास्ता

Q1. अनु के घर में एक पार्क है। उस पार्क के बीच में एक रास्ता है। उन्होंने रास्ते को 2 फीट, 3 फीट और 5 फीट की टाइलों से टाइल करने का फैसला लिया। मिस्त्री ने पहली पंक्ति को 2 फीट की टाइल से दूसरी पंक्ति को 3 फीट की टाइल से और तीसरी पंक्ति को 5 फीट की टाइल से, टाइल किया। मिस्त्री ने किसी भी टाइल को नहीं काटा। रास्ते की लंबाई कम से कम कितनी है?

उत्तर : रास्ते की लंबाई कम से कम 30 है।

इस प्रश्न में, दिया है कि, मिस्त्री ने पहली पंक्ति को 2 फीट टाइलों के साथ, दूसरी पंक्ति को 3 फीट टाइलों के साथ और तीसरी पंक्ति को 5 फीट टाइलों के साथ जोड़ा।

तो, अब हमें 2, 3 और 5 का गुणज ज्ञात करना है।

2 के गुणज = 2, 4, 6, 8, 10, 12, 14, 16, 18, 20, 22, 24, 26, 28, 30

3 के गुणज = 3, 6, 9, 12, 15, 18, 21, 24, 27, 30

5 के गुणज = 5, 10, 15, 20, 25, 30

सबसे छोटी साझा गुणज 30 है।

इसलिए, रास्ते की लंबाई कम से कम 30 है।

**Q2. मनोज ने एक नया घर बनाया है। वह फ़र्श पर टाइल बिछाना चाहता है। कमरे का आकार 9 फीट x 12 फीट है। बाजार में, तीन तरह की चौकोर टाइलें हैं: 1 फुट x 1 फुट, 2 फुट x 2 फुट और 3 फुट x 3 फुट। उसे कौन से आकार की टाइल खरीदनी चाहिए ताकि वह बिना काटे उन्हें बिछा सके?**

**उत्तर :** मनोज 1 फुट x 1 फुट, और 3 फुट x 3 फीट की खरीद कर सकता है, ताकि वह इसे बिना काटे बिछा सके।

इस प्रश्न से, यह पता चलता है कि, कमरे का आकार 9 फीट x 12 फीट है।

बाजार में उपलब्ध टाइलों का आकार इस प्रकार है :

1 फुट x 1 फुट, 2 फुट x 2 फुट और 3 फुट x 3 फुट।

यहां, 2 कमरे की चौड़ाई का गुणनखंड नहीं (9 फीट का) है। इसलिए 2 फीट x 2 फीट की टाइलें बिना काटे नहीं बिछाई जा सकते इसलिए इस प्रकार की टाइल नहीं खरीदनी चाहिए।

12 और 9 के गुणनखंड 1 और 3 हैं।

इसलिए, मनोज 1 फुट x 1 फुट, और 3 फुट x 3 फीट की खरीद कर सकता है, ताकि वह इसे बिना काटे बिछा सके।